

Проект

Единый государственный экзамен по ФИЗИКЕ

**Демонстрационный вариант
контрольных измерительных материалов
единого государственного экзамена 2012 года
по физике**

подготовлен Федеральным государственным научным учреждением
«ФЕДЕРАЛЬНЫЙ ИНСТИТУТ ПЕДАГОГИЧЕСКИХ ИЗМЕРЕНИЙ»

Демонстрационный вариант ЕГЭ 2012 г. ФИЗИКА, 11 класс.

(2011 - 2 /2)

Единый государственный экзамен по ФИЗИКЕ

**Пояснения к демонстрационному варианту контрольных
измерительных материалов 2012 года по ФИЗИКЕ**

При ознакомлении с демонстрационным вариантом контрольных измерительных материалов 2012 г. следует иметь в виду, что задания, включённые в демонстрационный вариант, не отражают всех вопросов содержания, которые будут проверяться с помощью вариантов КИМ в 2012 г. Полный перечень вопросов, которые могут контролироваться на едином государственном экзамене 2012 г., приведён в кодификаторе элементов содержания по физике для составления контрольных измерительных материалов (КИМ) единого государственного экзамена 2012 г.

Назначение демонстрационного варианта заключается в том, чтобы дать возможность любому участнику ЕГЭ и широкой общественности составить представление о структуре будущих КИМ, количестве заданий, их форме, уровне сложности. Приведённые критерии оценки выполнения заданий с развёрнутым ответом, включённые в этот вариант, дают представление о требованиях к полноте и правильности записи развёрнутого ответа.

Эти сведения позволят выпускникам выработать стратегию подготовки и сдачи ЕГЭ.

Единый государственный экзамен по ФИЗИКЕ**Демонстрационный вариант 2012****Инструкция по выполнению работы**

Для выполнения экзаменационной работы по физике отводится 4 часа (240 минут). Работа состоит из 3-х частей, включающих 35 заданий.

Часть 1 содержит 21 задание (А1–А21). К каждому заданию даётся 4 варианта ответа, из которых правильный только 1.

Часть 2 содержит 4 задания (В1–В4), в которых ответ необходимо записать в виде набора цифр.

Часть 3 содержит 10 задач: А22–А25 с выбором одного верного ответа и С1–С6, для которых требуется дать развёрнутые решения.

При вычислениях разрешается использовать непрограммируемый калькулятор.

Все бланки ЕГЭ заполняются яркими чёрными чернилами. Допускается использование гелевой, капиллярной или перьевой ручек.

При выполнении заданий Вы можете пользоваться черновиком. Обращаем Ваше внимание, что записи в черновике не будут учитываться при оценке работы.

Советуем выполнять задания в том порядке, в котором они даны. Для экономии времени пропускайте задание, которое не удаётся выполнить сразу, и переходите к следующему. Если после выполнения всей работы у Вас останется время, Вы сможете вернуться к пропущенным заданиям.

Баллы, полученные Вами за выполненные задания, суммируются. Постарайтесь выполнить как можно больше заданий и набрать наибольшее количество баллов.

Желаем успеха!

Ниже приведены справочные данные, которые могут понадобиться Вам при выполнении работы.

Десятичные приставки

Наименование	Обозначение	Множитель	Наименование	Обозначение	Множитель
гига	Г	10^9	санти	с	10^{-2}
мега	М	10^6	милли	м	10^{-3}
кило	к	10^3	микро	мк	10^{-6}
гекто	г	10^2	нано	н	10^{-9}
деци	д	10^{-1}	пико	п	10^{-12}

Константы

число π	$\pi = 3,14$
ускорение свободного падения на Земле	$g = 10 \text{ м/с}^2$
гравитационная постоянная	$G = 6,7 \cdot 10^{-11} \text{ Н} \cdot \text{м}^2/\text{кг}^2$
универсальная газовая постоянная	$R = 8,31 \text{ Дж}/(\text{моль} \cdot \text{К})$
постоянная Больцмана	$k = 1,38 \cdot 10^{-23} \text{ Дж/К}$
постоянная Авогадро	$N_A = 6 \cdot 10^{23} \text{ моль}^{-1}$
скорость света в вакууме	$c = 3 \cdot 10^8 \text{ м/с}$
коэффициент пропорциональности в законе Кулона	$k = \frac{1}{4\pi\epsilon_0} = 9 \cdot 10^9 \text{ Н} \cdot \text{м}^2/\text{Кл}^2$
модуль заряда электрона (элементарный электрический заряд)	$e = 1,6 \cdot 10^{-19} \text{ Кл}$
постоянная Планка	$h = 6,6 \cdot 10^{-34} \text{ Дж} \cdot \text{с}$

Соотношение между различными единицами

температура	$0 \text{ К} = -273 \text{ }^\circ\text{C}$
атомная единица массы	$1 \text{ а.е.м.} = 1,66 \cdot 10^{-27} \text{ кг}$
1 атомная единица массы эквивалентна	$931,5 \text{ МэВ}$
1 электронвольт	$1 \text{ эВ} = 1,6 \cdot 10^{-19} \text{ Дж}$

Масса частиц

электрона	$9,1 \cdot 10^{-31} \text{ кг} \approx 5,5 \cdot 10^{-4} \text{ а.е.м.}$
протона	$1,673 \cdot 10^{-27} \text{ кг} \approx 1,007 \text{ а.е.м.}$
нейтрона	$1,675 \cdot 10^{-27} \text{ кг} \approx 1,008 \text{ а.е.м.}$

Плотность

воды	1000 кг/м^3	подсолнечного масла	900 кг/м^3
древесины (сосна)	400 кг/м^3	алюминия	2700 кг/м^3
керосина	800 кг/м^3	железа	7800 кг/м^3
		ртути	$13\,600 \text{ кг/м}^3$

Удельная теплоёмкость

воды	$4,2 \cdot 10^3 \text{ Дж}/(\text{кг} \cdot \text{К})$	алюминия	$900 \text{ Дж}/(\text{кг} \cdot \text{К})$
льда	$2,1 \cdot 10^3 \text{ Дж}/(\text{кг} \cdot \text{К})$	меди	$380 \text{ Дж}/(\text{кг} \cdot \text{К})$
железа	$460 \text{ Дж}/(\text{кг} \cdot \text{К})$	чугуна	$500 \text{ Дж}/(\text{кг} \cdot \text{К})$
свинца	$130 \text{ Дж}/(\text{кг} \cdot \text{К})$		

Удельная теплота

парообразования воды	$2,3 \cdot 10^6 \text{ Дж/кг}$
плавления свинца	$2,5 \cdot 10^4 \text{ Дж/кг}$
плавления льда	$3,3 \cdot 10^5 \text{ Дж/кг}$

Нормальные условия: давление – 10^5 Па , температура – $0 \text{ }^\circ\text{C}$

Молярная масса

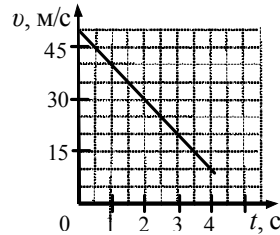
азота	$28 \cdot 10^{-3} \text{ кг/моль}$	кислорода	$32 \cdot 10^{-3} \text{ кг/моль}$
аргона	$40 \cdot 10^{-3} \text{ кг/моль}$	лития	$6 \cdot 10^{-3} \text{ кг/моль}$
водорода	$2 \cdot 10^{-3} \text{ кг/моль}$	молибдена	$96 \cdot 10^{-3} \text{ кг/моль}$
воздуха	$29 \cdot 10^{-3} \text{ кг/моль}$	неона	$20 \cdot 10^{-3} \text{ кг/моль}$
гелия	$4 \cdot 10^{-3} \text{ кг/моль}$	углекислого газа	$44 \cdot 10^{-3} \text{ кг/моль}$

Часть 1

При выполнении заданий части 1 в бланке ответов № 1 под номером выполняемого вами задания (A1–A21) поставьте знак «X» в клеточке, номер которой соответствует номеру выбранного вами ответа.

A1 На графике приведена зависимость скорости прямолинейно движущегося тела от времени. Определите модуль ускорения тела.

- 1) 5 м/с^2
- 2) 10 м/с^2
- 3) 15 м/с^2
- 4) $12,5 \text{ м/с}^2$



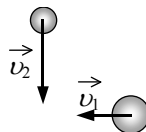
A2 Подъёмный кран поднимает груз с постоянным ускорением. На груз со стороны троса действует сила, равная $8 \cdot 10^3 \text{ Н}$. Сила, действующая на трос со стороны груза,

- 1) равна $8 \cdot 10^3 \text{ Н}$ и направлена вниз
- 2) меньше $8 \cdot 10^3 \text{ Н}$ и направлена вниз
- 3) больше $8 \cdot 10^3 \text{ Н}$ и направлена вверх
- 4) равна $8 \cdot 10^3 \text{ Н}$ и направлена вверх

A3 Камень массой 200 г брошен под углом 45° к горизонту с начальной скоростью $v = 15 \text{ м/с}$. Модуль силы тяжести, действующей на камень в момент броска, равен

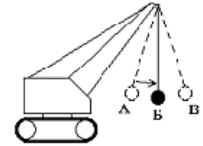
- 1) 0
- 2) $1,33 \text{ Н}$
- 3) $3,0 \text{ Н}$
- 4) $2,0 \text{ Н}$

A4 Шары движутся со скоростями, показанными на рисунке, и при столкновении слипаются. Как будет направлен импульс шаров после столкновения?



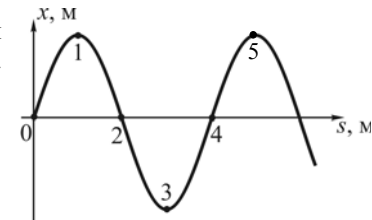
- 1)
- 2)
- 3)
- 4)

A5 Для разрушения преграды часто используют массивный шар, раскачиваемый на стреле подъёмного крана (см. рисунок). Какие преобразования энергии происходят при перемещении шара из положения А в положение Б?



- 1) кинетическая энергия шара преобразуется в его потенциальную энергию
- 2) потенциальная энергия шара преобразуется в его кинетическую энергию
- 3) внутренняя энергия шара преобразуется в его кинетическую энергию
- 4) потенциальная энергия шара полностью преобразуется в его внутреннюю энергию

A6 На рисунке показан профиль бегущей волны в некоторый момент времени. Разность фаз колебаний точек 1 и 3 равна

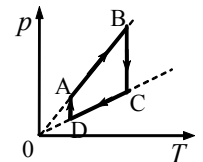


- 1) 2π
- 2) π
- 3) $\frac{\pi}{4}$
- 4) $\frac{\pi}{2}$

A7 Под микроскопом наблюдают хаотическое движение мельчайших частиц мела в капле растительного масла. Это явление называют

- 1) диффузией жидкостей
- 2) испарением жидкостей
- 3) конвекцией в жидкости
- 4) броуновским движением

A8 На рисунке приведён график циклического процесса, осуществляемого с идеальным газом. Масса газа постоянна. Изотермическому сжатию соответствует участок

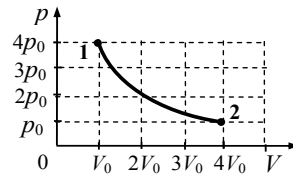


- 1) AB
- 2) BC
- 3) CD
- 4) DA

A9 В сосуде с подвижным поршнем находится вода и её насыщенный пар. Объём пара изотермически уменьшили в 2 раза. Концентрация молекул пара при этом

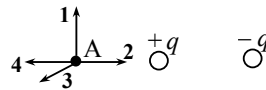
- 1) не изменилась
- 2) увеличилась в 2 раза
- 3) уменьшилась в 2 раза
- 4) увеличилась в 4 раза

A10 На графике показана зависимость давления одноатомного идеального газа от его объёма. При переходе из состояния 1 в состояние 2 газ совершил работу, равную 5 кДж. Количество теплоты, полученное газом при этом переходе, равно



- 1) 1 кДж
- 2) 4 кДж
- 3) 5 кДж
- 4) 7 кДж

A11 На рисунке представлено расположение двух неподвижных точечных электрических зарядов $+q$ и $-q$ ($q > 0$). Направлению вектора напряженности суммарного электрического поля этих зарядов в точке А соответствует стрелка

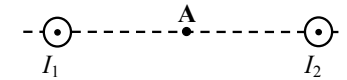


- 1) 1
- 2) 2
- 3) 3
- 4) 4

A12 По проводнику с сопротивлением R течет ток I . Как изменится количество теплоты, выделяющееся в проводнике в единицу времени, если его сопротивление увеличить в 2 раза, а силу тока уменьшить в 2 раза?

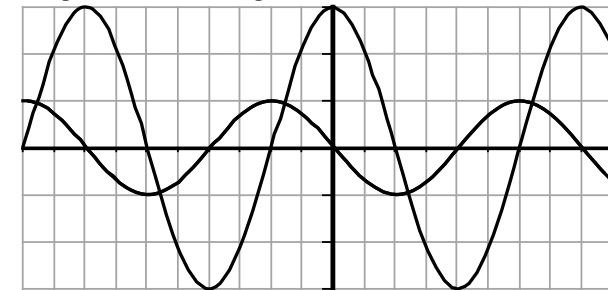
- 1) увеличится в 2 раза
- 2) уменьшится в 2 раза
- 3) не изменится
- 4) уменьшится в 8 раз

A13 Магнитное поле $\vec{B} = \vec{B}_1 + \vec{B}_2$ создано в точке А двумя параллельными длинными проводниками с токами I_1 и I_2 , расположенными перпендикулярно плоскости чертежа. Векторы \vec{B}_1 и \vec{B}_2 в точке А направлены в плоскости чертежа следующим образом:



- 1) \vec{B}_1 – вверх, \vec{B}_2 – вниз
- 2) \vec{B}_1 – вверх, \vec{B}_2 – вверх
- 3) \vec{B}_1 – вниз, \vec{B}_2 – вверх
- 4) \vec{B}_1 – вниз, \vec{B}_2 – вниз

A14 На рисунке приведены осциллограммы напряжений на двух различных элементах электрической цепи переменного тока.

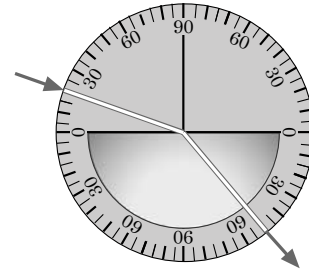


Колебания этих напряжений имеют

- 1) одинаковые периоды, но различные амплитуды
- 2) различные периоды и различные амплитуды
- 3) различные периоды, но одинаковые амплитуды
- 4) одинаковые периоды и одинаковые амплитуды

A15 На рисунке представлен опыт по преломлению света. Пользуясь приведённой таблицей, определите показатель преломления вещества.

угол α	20°	40°	50°	70°
$\sin \alpha$	0,34	0,64	0,78	0,94



- 1) 1,22 2) 1,47 3) 1,88 4) 2,29

A16 Сложение в пространстве когерентных волн, при котором образуется постоянное во времени пространственное распределение амплитуд результирующих колебаний, называется

- 1) интерференция
- 2) поляризация
- 3) дисперсия
- 4) преломление

A17 Длина волны красного света почти в 2 раза больше длины волны фиолетового света. Энергия фотона красного света по отношению к энергии фотона фиолетового света

- 1) больше в 4 раза
- 2) больше в 2 раза
- 3) меньше в 4 раза
- 4) меньше в 2 раза

A18 Ядро мышьяка ${}_{33}^{67}\text{As}$ состоит из

- 1) 33 нейтронов и 34 протонов
- 2) 33 протонов и 34 нейтронов
- 3) 33 протонов и 67 нейтронов
- 4) 67 протонов и 34 электронов

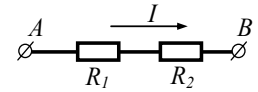
A19 В образце имеется $2 \cdot 10^{10}$ ядер радиоактивного изотопа цезия ${}_{55}^{137}\text{Cs}$, имеющего период полураспада 26 лет. Через сколько лет останутся нераспавшимися $0,25 \cdot 10^{10}$ ядер данного изотопа?

- 1) 26 лет 2) 52 года 3) 78 лет 4) 104 года

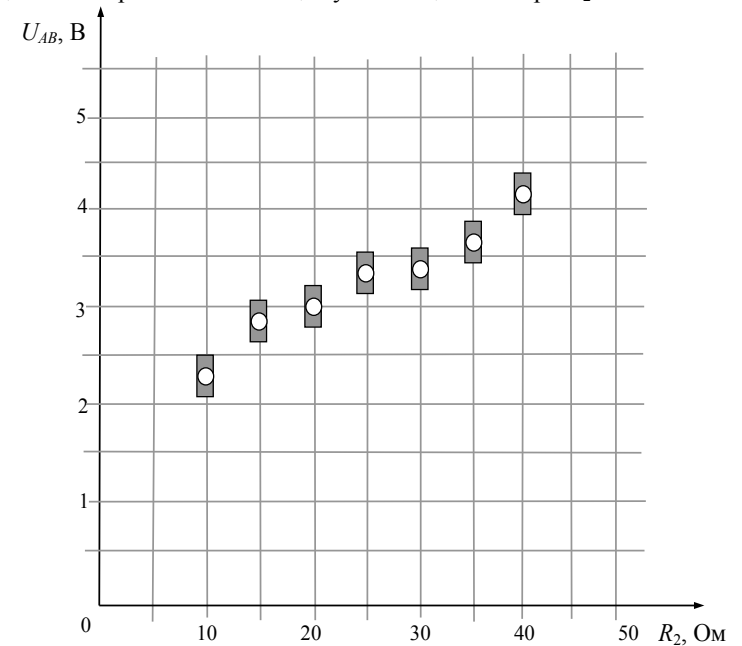
A20 Идеальный газ в количестве ν молей при температуре T и давлении p занимает объём V . Какую константу можно определить по этим данным?

- 1) число Авогадро N_A
- 2) газовую постоянную R
- 3) постоянную Планка h
- 4) постоянную Больцмана k

A21 На графике представлены результаты измерения напряжения на концах участка AB цепи постоянного тока, состоящей из двух последовательно соединённых резисторов, при различных значениях сопротивления резистора R_2 и неизменной силе тока I (см. рисунок).



С учётом погрешностей измерений ($\Delta R = \pm 1$ Ом, $\Delta U = \pm 0,2$ В) найдите ожидаемое напряжение на концах участка цепи AB при $R_2 = 50$ Ом.



- 1) 3,5 В
- 2) 4 В
- 3) 4,5 В
- 4) 5,5 В

Часть 2

Ответом к заданиям этой части (B1–B4) является последовательность цифр. Впишите ответы сначала в текст работы, а затем перенесите их в бланк ответов № 1 справа от номера соответствующего задания, начиная с первой клеточки, без пробелов и каких-либо дополнительных символов. Каждую цифру пишите в отдельной клеточке в соответствии с приведёнными в бланке образцами.

B1 В ходе адиабатного процесса внутренняя энергия одного моля разреженного гелия увеличивается. Как изменится при этом температура гелия, его давление и объём?

Для каждой величины определите соответствующий характер изменения:

- 1) увеличивается
- 2) уменьшается
- 3) не изменяется

Запишите в таблицу выбранные цифры для каждой физической величины. Цифры в ответе могут повторяться.

Температура гелия	Давление гелия	Объём гелия

B2 Монохроматический свет с энергией фотонов $E_{\text{ф}}$ падает на поверхность металла, вызывая фотоэффект. При этом напряжение, при котором фототок прекращается, равно $U_{\text{зап}}$. Как изменится длина волны λ падающего света, модуль запирающего напряжения $U_{\text{зап}}$ и длина волны $\lambda_{\text{кр}}$, соответствующая «красной границе» фотоэффекта, если энергия падающих фотонов $E_{\text{ф}}$ увеличится?

Для каждой величины определите соответствующий характер изменения:

- 1) увеличится
- 2) уменьшится
- 3) не изменится

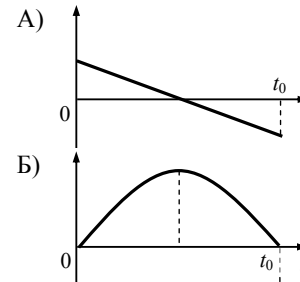
Запишите в таблицу выбранные цифры для каждой физической величины. Цифры в ответе могут повторяться.

Длина волны λ падающего света	Модуль запирающего напряжения $U_{\text{зап}}$	«Красная граница» фотоэффекта $\lambda_{\text{кр}}$

B3 Шарик брошен вертикально вверх с начальной скоростью \vec{v} (см. рисунок). Установите соответствие между графиками и физическими величинами, зависимости которых от времени эти графики могут представлять (t_0 – время полёта). К каждой позиции первого столбца подберите соответствующую позицию второго и запишите в таблицу выбранные цифры под соответствующими буквами.



ГРАФИКИ



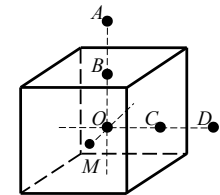
ФИЗИЧЕСКИЕ ВЕЛИЧИНЫ

- 1) координата шарика y
- 2) проекция скорости шарика v_y
- 3) проекция ускорения шарика a_y
- 4) проекция F_y силы тяжести, действующей на шарик

Ответ:

А	Б

B4 На неподвижном проводящем уединённом кубике находится заряд Q . Точка O – центр кубика, точки B и C – центры его граней, $AB = OB$, $CD = OC$, $OM = \frac{OB}{2}$. Модуль напряжённости электростатического поля заряда Q в точке A равен E_A . Чему равен модуль напряжённости электростатического поля заряда Q в точке D и точке M ?



Установите соответствие между физическими величинами и их значениями. К каждой позиции первого столбца подберите соответствующую позицию второго и запишите в таблицу выбранные цифры под соответствующими буквами.

ФИЗИЧЕСКАЯ ВЕЛИЧИНА

ЕЁ ЗНАЧЕНИЕ

- | | |
|---|------------|
| A) модуль напряжённости электростатического поля кубика в точке D | 1) 0 |
| B) модуль напряжённости электростатического поля кубика в точке M | 2) E_A |
| | 3) $4E_A$ |
| | 4) $16E_A$ |

Ответ:

А	Б

Часть 3

Задания третьей части представляют собой задачи. Рекомендуется провести их предварительное решение на черновике.

При выполнении заданий (A22–A25) в бланке ответов № 1 под номером выполняемого вами задания поставьте знак «X» в клеточке, номер которой соответствует номеру выбранного вами ответа.

- A22** Небольшой камень бросили с ровной горизонтальной поверхности земли под углом к горизонту. На какую максимальную высоту поднялся камень, если ровно через 1 с после броска его скорость была направлена горизонтально?
 1) 10 м 2) 5 м 3) $5\sqrt{3}$ м 4) $10\sqrt{2}$ м

- A23** Подвешенный на нити грузик совершает гармонические колебания. В таблице представлены координаты грузика через одинаковые промежутки времени. Какова примерно максимальная скорость грузика?

t (с)	0	0,1	0,2	0,3	0,4	0,5	0,6	0,7
x (см)	4	2	0	2	4	2	0	2

- 1) 1,24 м/с 2) 0,31 м/с 3) 0,62 м/с 4) 0,4 м/с

- A24** У теплового двигателя, работающего по циклу Карно, температура нагревателя – 500 К, а температура холодильника – 300 К. Рабочее тело за один цикл получает от нагревателя 40 кДж теплоты. Какую работу совершает при этом рабочее тело двигателя?

- 1) 1,6 кДж 2) 35,2 кДж 3) 3,5 кДж 4) 16 кДж

- A25** Две частицы, имеющие отношение масс $\frac{m_2}{m_1} = 8$, влетели в однородное магнитное поле перпендикулярно линиям магнитной индукции. Найдите отношение зарядов частиц $\frac{q_2}{q_1}$, если их скорости одинаковы, а отношение радиусов траекторий: $\frac{R_2}{R_1} = 2$.

- 1) 16 2) 2 3) 8 4) 4

Не забудьте перенести все ответы в бланк ответов № 1.

Полное решение задач C1–C6 необходимо записать в бланке ответов № 2. При оформлении решения в бланке ответов № 2 запишите сначала номер задания (C1, C2 и т.д.), а затем решение соответствующей задачи. Ответы записывайте чётко и разборчиво.

- C1** Магнитный стальной стержень начинает свободное падение с нулевой начальной скоростью из положения, изображённого на рис. 1. Пролетая сквозь закреплённое проволочное кольцо, стержень создаёт в нём электрический ток, сила которого изменяется со временем так, как показано на рис. 2.

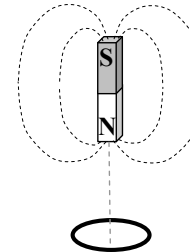


Рис. 1

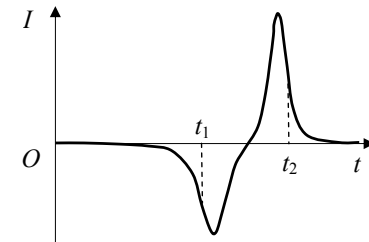
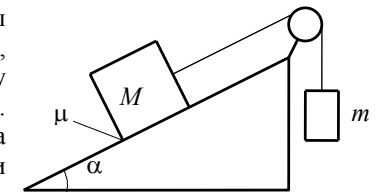


Рис. 2

Почему в моменты времени t_1 и t_2 ток в кольце имеет различные направления? Ответ поясните, указав, какие физические явления и закономерности вы использовали для объяснения. Влиянием тока в кольце на движение магнита пренебречь.

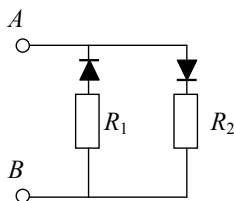
Полное правильное решение каждой из задач C2–C6 должно включать законы и формулы, применение которых необходимо и достаточно для решения задачи, а также математические преобразования, расчёты с численным ответом и при необходимости рисунок, поясняющий решение.

- C2** Грузы массами $M = 1$ кг и m связаны лёгкой нерастяжимой нитью, переброшенной через блок, по которому нить может скользить без трения (см. рисунок). Груз массой M находится на шероховатой наклонной плоскости (угол наклона плоскости к горизонту $\alpha = 30^\circ$, коэффициент трения $\mu = 0,3$). Чему равно максимальное значение массы m , при котором система грузов ещё не выходит из первоначального состояния покоя? Решение поясните схематичным рисунком с указанием используемых сил.

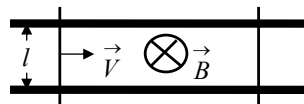


- C3** Необходимо расплавить лёд массой 0,2 кг, имеющий температуру 0 °С. Выполнима ли эта задача, если потребляемая мощность нагревательного элемента – 400 Вт, тепловые потери составляют 30%, а время работы нагревателя не должно превышать 5 минут?

- C4** В цепи, изображённой на рисунке, сопротивление диодов в прямом направлении пренебрежимо мало, а в обратном многократно превышает сопротивление резисторов. При подключении к точке *A* положительного полюса, а к точке *B* отрицательного полюса батареи с ЭДС 12 В и пренебрежимо малым внутренним сопротивлением, потребляемая мощность равна 7,2 Вт. При изменении полярности подключения батареи потребляемая мощность оказалась равной 14,4 Вт. Укажите условия протекания тока через диоды и резисторы в обоих случаях и определите сопротивление резисторов в этой цепи.



- C5** Два параллельных друг другу рельса, лежащих в горизонтальной плоскости, находятся в однородном магнитном поле, индукция \vec{B} которого направлена вертикально вниз



(см. рисунок). Левый проводник движется вправо со скоростью \vec{V} , а правый покоится. С какой скоростью \vec{v} надо перемещать правый проводник (такой же), чтобы в три раза уменьшить силу Ампера, действующую на левый проводник? (Сопротивлением рельсов пренебречь.)

- C6** Свободный пион (π^0 -мезон) с энергией покоя 135 МэВ движется со скоростью V , которая значительно меньше скорости света. В результате его распада образовались два γ -кванта, причём один из них распространяется в направлении движения пиона, а другой – в противоположном направлении. Энергия одного кванта на 10% больше, чем другого. Чему равна скорость пиона до распада?